



**EVALUARE NAȚIONALĂ  
LA FINALUL CLASEI a IV-a  
2022**

**MATEMATICĂ  
Test 1**

Județul/sectorul .....

Localitatea .....

Școala .....

Numele și prenumele elevei/elevului .....

.....

Clasa a IV-a .....

Băiat ☐

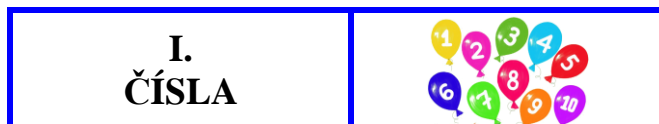
Fată ☐



Každé dítě miluje zvířata. Na vesnici se domácí zvířata chovají v domácnostech a na farmách.

Kde ale můžeme vidět divoká zvířata? Samozřejmě v jejich přirozeném prostředí. Snazší je poznat a obdivovat ty, kteří žijí v přírodních rezervacích nebo v zoologických zahradách, které navštěvujeme.

Vyřeš další test a najdi informace k tomuto tématu. Úspěch!



Zkratka „Zoo” poprvé používali Angličané, aby pojmenovali londýnskou zoologickou zahradu, zřízenou v roce 1828. Jak se píše přirozené číslo **1828** pomocí písmen?

Zakroužkuj písmeno odpovídající tomuto číslu napsané písmeny.



- A. tisíc osmset dvacet osm
- B. tisíc osm set dva cet osm
- C. tisíc osm set dvacet osm
- D. tisíc osmset dva cet dva

*Nu se completează de către elev.*

COD

1.



Nejstarší zoologická zahrada v Rumunsku byla otevřena v roce **MCMXXIX** v lese Dumbrava, nedaleko od Sibiu. Jak se toto číslo píše **arabskými číslicemi**?

Zakroužkuj písmeno odpovídající tomuto arabskému číslu.



- A. 1129
- B. 1919
- C. 1929
- D. 1931

*Nu se completează de către elev.*

COD

2.

3

Celkový počet druhů ptáků a savců na Zemi je přibližně 16 000.

Který je **předchůdce** a **nástupce** přirozené čísla **16 000**?

Zakroužkuj písmeno se správnou odpovědí.



A. 15 000 a 17 000

B. 15 900 a 16 100

C. 15 999 a 16 010

D. 15 999 a 16 001

Nu se completează de către elev.

COD

3.

4

Ionuț má spoustu plyšových hraček. **Čtvrtinu** z celkového počtu těchto tvoří medvídci.

Jaké je znázornění počtu medvídků?

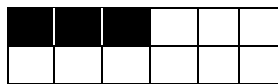
Zakroužkuj písmeno se správnou odpovědí.



A.



B.



C.



D.



Nu se completează de către elev.

COD

4.

5

Zoologická zahrada v Bukurešti, z lesa Băneasa byla založena v roce 1955.

Zaokrouhlí na řadu **tisíců**, přirozené číslo **1955**.

Zakroužkuj písmeno se správnou odpovědí.



A. 1000

B. 1900

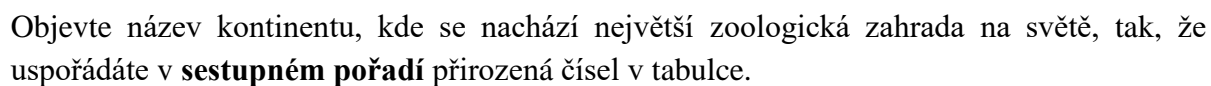
C. 1950

D. 2000

Nu se completează de către elev.

COD

5.



Na dané místo napiš název kontinentu.



**6.**

V níže uvedené tabulce jsou matematické operace, které musí pelikán vyřešit.

Pomoz mu s řešením daných matematických operací.



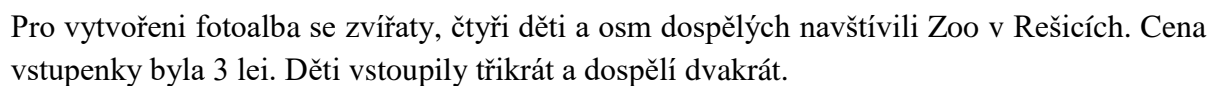
<b>a</b>	<b>Znak matematické operace</b>	<b>b</b>	<b>Výsledek</b>
<b>12480</b>	<b>+</b>	<b>35408</b>	
<b>237879</b>	<b>+</b>	<b>59222</b>	
<b>949828</b>	<b>-</b>	<b>720527</b>	
<b>47458</b>	<b>-</b>	<b>9509</b>	
<b>382</b>	<b>x</b>	<b>1000</b>	
<b>2673</b>	<b>x</b>	<b>308</b>	
<b>322688</b>	<b>:</b>	<b>8</b>	
<b>8738</b>	<b>:</b>	<b>17</b>	

Proved' výpočty zde.

[illegible]

**7.**

Pagina 5 din 12



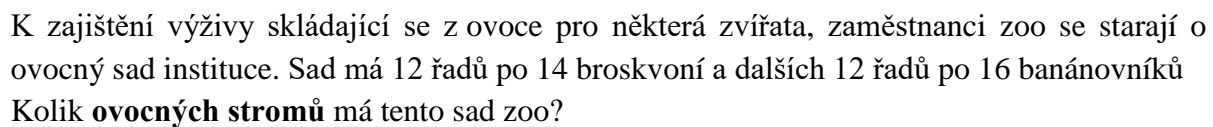
Dole jsou uvedeny pět způsobů, jak vyřešit problém jako cvičení.



	$3 \times 4 \times 3 + 3 \times 8 \times 2$
--	---

COD

10

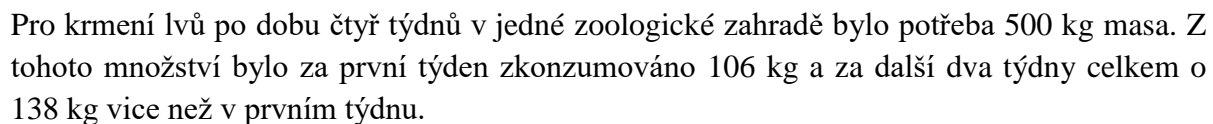


.....

[illegible]

COD

7



Vyřeš problém a napiš odpověď na daný prostor.

This image shows a full page of blank graph paper. The grid consists of small, uniform squares formed by thin, light blue lines. There are no margins, text, or other markings on the page.

**10.**

10

## II. GEOMETRICKÉ ÚTVARY A MĚŘENÍ



11

Jakému **geometrickému útvaru** se podobá fotografie z prava?

Zakroužkuj písmeno odpovídající danému geometrickému útvaru.



A. čtverec

B. trojúhelník

C. obdélník

D. kruh

*Nu se completează de către elev.*

COD

11.

12

**Hmotnost** plyšového zvířátka na obrázku lze měřit v ... .

Zakroužkuj písmeno odpovídající nejvhodnější jednotce měření pro změření hmotnosti tohoto plyšového zvířátka.



A. gramů

B. litrů

C. tun

D. centů

*Nu se completează de către elev.*

COD

12.

13

Pro povzbuzení k návštěvě zoologické zahrady, od úterka 14. června do včetně úterka 21. června, děti nebudou platit vstup.

Kolik **dní** budou mít děti vstup zdarma do zoo?

Zakroužkuj písmeno se správnou odpovědí.

A. 6 dní

B. 7 dní

C. 8 dní

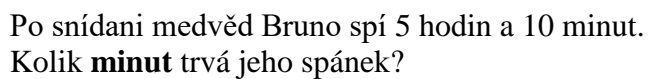
D. 9 dní

*Nu se completează de către elev.*

COD

13.





Zakroužkuj písmeno se správnou odpovědí.



- A.** 260 minut  
**B.** 300 minut  
**C.** 310 minut  
**D.** 510 minut

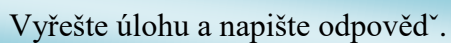
*Nu se completează de către elev.*

**14.**



Pozemek, kde je umístěný jelen v zoologické zahradě, má obdélníkový tvar,  $26m$  dlouhý a  $14m$  široký.

Vypočítej **obvod** tohoto pozemku.



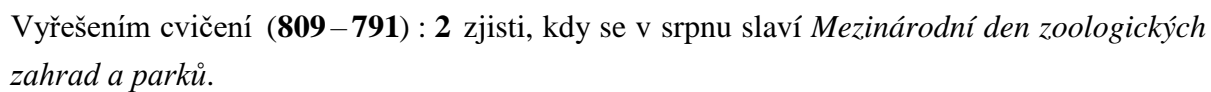
Zde napiš řešení problému.



*Nu se completează de către elev.*  
COE

**15.**

TEST 1 – *Matematică*  
EN IV 2022

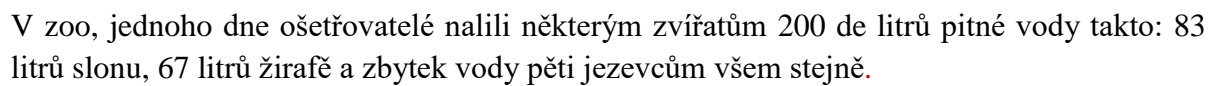


Vypočítej zde.

[illegible]

COD

11



Kolik litrů vody dostal každý jezevec?



Zde napiš řešení problému.

A large grid of graph paper with a header row and 10 columns. The header row contains the following text: "Date: \_\_\_\_\_", "Page: \_\_\_\_\_", "Name: \_\_\_\_\_", "Class: \_\_\_\_\_", "Subject: \_\_\_\_\_", "Teacher: \_\_\_\_\_", "School: \_\_\_\_\_", "Address: \_\_\_\_\_", "City: \_\_\_\_\_", "State: \_\_\_\_\_". The grid is composed of 10 columns and 20 rows of squares.

COD

1

	2. třída	3. třída	4. třída
<b>Holky</b>	115	133	113
<b>Chlapci</b>	126	107	129

Napiš odpověď na níže vyznačené místo.

[illegible]

18.

11

4  
**Octombrie**  
**2022**

P	Ú	S	Č	P	S	N
					1	2
3	4	5	6	7	8	9
10	11	12	13	14	15	16
17	18	19	20	21	22	23
24	25	26	27	28	29	30
31						

Zakroužkuj písmeno odpovídající dnu v týdnu, ve kterém se bude konat akce.



### D. neděli

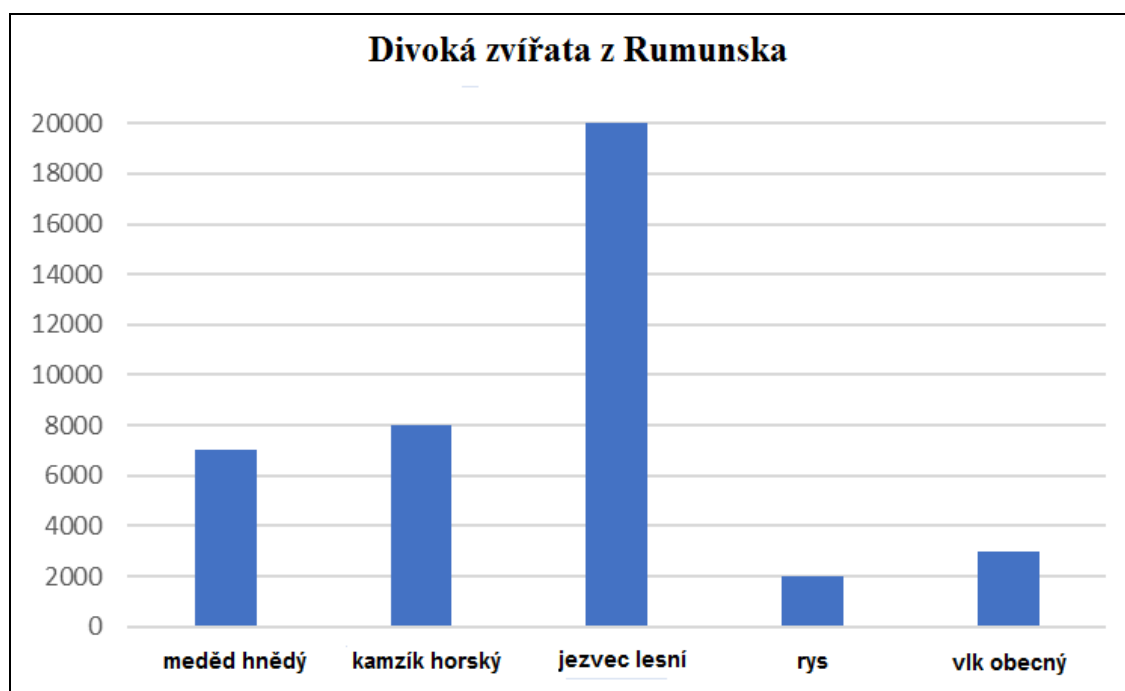
19.

11



Názvy některých divokých zvířat žijících v Rumunsku a jejich přibližný počet jsou uvedeny v níže grafickém znázornění.

Která z těchto zvířat jsou ve větším počtu než 2000 ?



Napiš na níže uvedený prostor **jména zvířat**, která jsou ve větším počtu než 2000 .



.....

*Nu se completează de către elev.*

COD

20.



**BLAHOPŘEJEME, DOSAHL/A JSI KONEC TESTU!  
DĚKUJEME ZA ÚČAST**

**Po dokončení testu, pokud ti zbývá čas,  
vybav tuto kresbu!**

